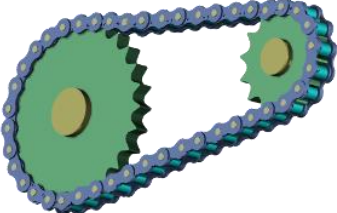
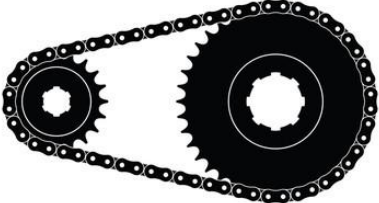




120029 Entfaltung berechnen-w

1.	Berechnen Sie die Entfaltung. Mit $z_1=17$, $z_2=12$, $d= 0,71\text{m}$.	
2.	Berechnen Sie die Entfaltung. Mit $z_1=52$, $z_2=19$, $d= 0,66\text{ m}$.	
3.	Berechnen Sie die Entfaltung. Mit $z_1=52$, $z_2=19$, $U= 436\text{ mm}$	
4.	Berechnen Sie die Entfaltung. Mit $z_1=36$, $z_2=37$, $d= 26''$	
5.	Berechnen Sie die Entfaltung. Mit $z_1=36$, $z_2=37$, $d= 28''$	